

# پیک فیلم هفتگی



+ صفحات جادویی  
واقعیته افزوده



سوم دبستان



راهنمای نصب پشت پرده



کافیه پیک فیلم رو نصب کنین!



گروه تخصصی کودک و نوجوان

مدیر فروش: ۰۹۱۰۲۰۱۵۲۰۰

Instagram: salampub

Telegram: @Salam\_PUB

Website: www.salampub.com

پیک هفتگی

به همراه ویدئوهای آموزشی (معلم خصوصی)



# پایه ی سوم

## پیک فیلم هفتگی ۵

نام و نام خانوادگی:	دبستان:	کلاس:
قرآن: فصل دوم (صفحه ۱۶ الی ۲۳) ریاضی: فصل دوم (صفحه ۲۵ تا ۳۰) علوم: درس سوم (صفحه ۱۹ تا ۲۶)	هدیه های آسمان: (صفحه ۱۸ الی ۲۳) فارسی: درس دوم (صفحه ۲۰ الی ۲۴) اجتماعی: درس پنجم (صفحه ۱۴ الی ۱۵)	

### قرآن و هدیه

- عبارت قرآنی را بخش بخش بخوانید و بنویسید.  
قُلْ هَاتُوا بُرْهَانَكُمْ + ..... + تو + ..... + ..... + ..... + .....
- پادشاه بت پرست سرزمین بابل ..... بود.
- در درس «همیشه با من» کدام جمله به ویژگی «مهربانی و دلسوزی» پیامبر (ص) اشاره می کند؟
- حضرت محمد (ص) هنگام باز کردن گردنبند به دایه اش چه گفت؟



ریاضی

خیلی خوب    خوب    قابل قبول    نیاز به تلاش بیشتر

۱- ارزش ۳۵۰۰ لیره ی کشور شورستان، ۲۰ ریال ایران است. ۴ تومان ایران چند لیره ی آن کشور است؟



۲- با توجه به محور، عددهای داده شده را به صورت تقریبی نشان دهید.

۸۰۷،۱۳۵۰،۳۲۸۰،۴۷۰۰



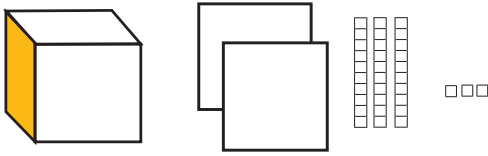
۳- عدد زیر را به صورت گسترده بنویسید.

$$۶۳۴۰ = \dots + \dots + \dots$$

۴- حاصل جمع زیر را بنویسید.

$$۱۰۰۰ + ۵۰ + ۲۰ + ۲۰۰۰ + ۳ + ۶ = \dots$$

۵- با توجه به دسته‌های رسم شده، جدول را کامل کنید و عدد را به حروف بنویسید.



یکان	دهگان	صدگان	هزارگان

حروف: .....

۶- عدد داخل دایره به کدام عدد نزدیک‌تر است؟ آن را رنگ بزنید.



۷- جاهای خالی را کامل کنید.

۴۸۰۲ گرم یعنی ..... کیلوگرم و ..... گرم.

۷ کیلومتر و ۳۱ متر یعنی ..... متر.

۶۰۰۲ متر یعنی ..... کیلومتر و ..... متر.

فارسی خیلی خوب خوب قابل قبول نیاز به تلاش بیشتر


۱- مخالف کلمه‌های زیر را بنویسید.

مفید  $\neq$  ..... بهتر  $\neq$  ..... اول  $\neq$  .....

۲- جمله را با توجه به کلمه‌ی داخل پرانتز تغییر دهید.

هفته‌ی گذشته، دانش‌آموزان به سینما رفتند.

(فردا) .....



۳- در جاهای خالی کلمه های مناسب را بنویسید.

..... برای مسابقات آماده شده اند. (او، آنها)

..... امروز به پارک رفتیم. (شما، من)

۴- یک بند بنویسید که در آن، کلمه های زیر به کار رفته باشد.




.....

.....

.....

۵- هر تصویر را به مکان مناسب خود وصل کنید.



نیاز به تلاش بیشتر

قابل قبول

خوب

خیلی خوب

علوم

۱- به چه موادی گاز می گویند؟ یک مثال بنویسید.

۲- سه نوع تبخیر در زندگی روزمره را بنویسید.

۱- ..... ۲- ..... ۳- .....

۳- هر تصویر را به گزینه ی مربوط به خود وصل کنید.



جامد



گاز



مایع

نیاز به تلاش بیشتر

قابل قبول

خوب

خیلی خوب



اجتماعی

۱- چرا همه‌ی ما دوست داریم در کنار خانواده زندگی کنیم؟

.....

۲- چه چیزهایی را در خانواده می‌آموزیم؟ (سه مورد)

.....

.....

.....

۳- شما چگونه محبت خودتان را به اعضای خانواده نشان می‌دهید؟

.....



سرگرمی

خیلی خوب ★ خوب ★ قابل قبول ★ نیاز به تلاش بیشتر ★

نظر یا پیشنهاد والدین:

ارزیابی آموزگار:



پیک فیلم هفتگی

پایه سوم

نام و نام خانوادگی:

دبستان:

کلاس:

هدیه های آسمان: (صفحه ۴۶ الی ۵۱)  
فارسی: درس هشتم (صفحه ۵۰ الی ۵۲)  
اجتماعی: درس نهم (صفحه ۲۷ الی ۲۸)

قرآن: فصل دوم (صفحه ۵۰ الی ۵۳)  
ریاضی: فصل سوم (صفحه ۵۲ الی ۵۴)  
علوم: درس ششم (صفحه ۴۳ الی ۴۷)



قرآن و هدیه

۱- کلمه های زیر چگونه خوانده می شوند؟ بنویسید.

أَهْلَهُ : أَهْلٌ لَّهُ هُوَ

آیاتِی :

قُلْتُهُ :

۲- چرا پیامبر خدا فرمود: «خداوند او بیس را خیلی دوست دارد»؟

.....

۳- «وَقُلْ لَهُمَا قَوْلًا كَرِيمًا» به چه معناست؟

.....

نیاز به تلاش بیشتر

قابل قبول

خوب

خیلی خوب

ریاضی

۱- زهرا و راحله هر کدام به طور مساوی از پدرشان پول گرفتند. زهرا  $\frac{2}{5}$  و راحله  $\frac{2}{7}$  آن را خرج کرد. با رسم شکل نشان دهید چه کسی پول بیشتری خرج کرده است؟

راحله	<input type="text"/>
زهرا	<input type="text"/>

۲- مقایسه کنید.  $> = <$

$$\frac{3}{9} \bigcirc \frac{5}{9}$$

$$\frac{3}{4} \bigcirc \frac{3}{8}$$

$$\frac{7}{7} \bigcirc 2$$

ثلث  $\bigcirc$  خمس

$$\frac{2}{4} \bigcirc \frac{4}{6}$$

۴ واحد و  $\frac{2}{5}$  واحد  $\bigcirc$  ۳ واحد و  $\frac{3}{5}$  واحد

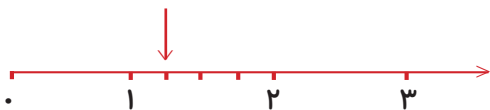
۳- زاویه‌های راست را در شکل‌های زیر مشخص کنید.



برای تشخیص زاویه ی راست از چه وسیله ای استفاده کردید؟


۴- دایره‌ای رسم کنید که قطر آن ۴ سانتی متر باشد. اندازه ی شعاع را نیز بنویسید.

۵- با توجه به نقطه‌ی مشخص شده روی محور، جاهای خالی را کامل کنید و با رسم شکل نیز نشان دهید.



..... واحد و ..... واحد

۶- شکل‌های زیر را به اندازه‌ی عدد داده شده، رنگ بزنید.



۲ واحد و  $\frac{2}{3}$  واحد

خیلی خوب  $\star$  خوب  $\star$  قابل قبول  $\star$  نیاز به تلاش بیشتر  $\star$

فارسی

۱- هفت کلمه‌ی مهم و دارای ارزش املائی از متن درس «فداکاران» پیدا کنید و سپس آن‌ها را به



ترتیب حروف الفبا بنویسید.

۲- با هر دو کلمه یک ترکیب مناسب ساخته و سپس با آن‌ها جمله بسازید.



.....  
.....  
.....

۳- جمله‌ی زیر را ادامه دهید.

از خواندن درس فداکاران لذت بردم، زیرا .....

۴- هم خانواده‌ی کلمات زیر را بنویسید.

احترام: ..... / اشتیاق: .....

۵- جمله‌ی به هم ریخته‌ی زیر را مرتب کنید.



.....

علمی  خیلی خوب  خوب  قابل قبول  نیاز به تلاش بیشتر 

۱- چرا آب، همه جا در زمین فرو نمی‌رود؟

۲- آب‌های زیرزمینی چگونه تشکیل می‌شوند؟



۳- آب در خاک رس به مقدار زیادتری فرو می‌رود یا در ماسه؟ چرا؟



۴- رود چگونه به وجود می‌آید؟

اجتماعی  خیلی خوب  خوب  قابل قبول  نیاز به تلاش بیشتر

۱- ..... به ما می‌گوید، چه کارهایی را باید انجام بدهیم یا انجام ندهیم.

۲- روی این «کارت قدردانی» برای یکی از اعضای خانواده تان یک جمله بنویسید.

تقدیر و تشکر



۳- اگر از شما بخواهند مقررات جدیدی به قوانین خانه تان اضافه کنید، چه چیزهایی پیشنهاد می‌کنید؟

خیلی خوب  خوب  قابل قبول  نیاز به تلاش بیشتر

..... نظر یا پیشنهاد والدین:

..... ارزیابی آموزگار:



نام و نام خانوادگی:	دبستان:	کلاس:
قرآن: فصل سوم (صفحه ۸۵ الی ۸۷)	هدیه: (صفحه ۷۲ الی ۷۷)	
ریاضی: فصل پنجم (صفحه ۸۶ الی ۹۰)	فارسی: درس یازدهم (صفحه ۸۳ الی ۸۷)	
علوم: درس دهم (صفحه ۷۳ الی ۷۶)	اجتماعی: درس شانزدهم (صفحه ۴۸ الی ۵۰)	

قرآن و هدیه

۱- ..... ، بهار دلها و چشمه های دانش است.

۲- نماز عید فطر چگونه برگزار می شود؟

۳- خانه های مربوط را به هم وصل کنید.

عید فطر	عید نوروز	جشن تکلیف	روز مادر
عید عبادت	میلاد حضرت زهرا(س)	نماز عید	بهار

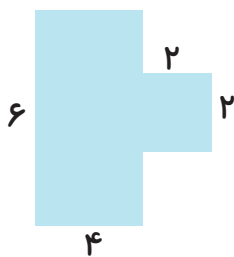
خیلی خوب  خوب  قابل قبول  نیاز به تلاش بیشتر

ریاضی

۱- محیط شکل ها را به کمک ضرب پیدا کنید.



۲- محیط و مساحت شکل زیر را حساب کنید.

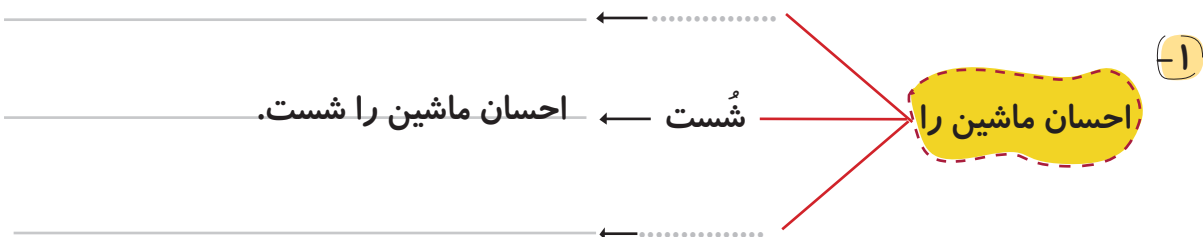


۳- با رشته‌ی ماکارونی یا مقداری کاموا یک مربع و یک مستطیل روی کاغذ درست کنید، به طوری که محیط مربع ۱۲ و محیط مستطیل ۲۰ سانتی متر شود و اندازه‌ی ضلع‌ها را با خط‌کش اندازه بگیرید و کنار آن بنویسید و محیط هر کدام را با نوشتن راه حل به دست آورید.



انتظارات معلم	خیلی خوب	خوب	قابل قبول	نیاز به تلاش بیشتر
اندازه‌گیری با خط‌کش را با دقت انجام داده است.				
محیط مربع را محاسبه کرده است.				
محیط مستطیل را محاسبه کرده است.				
کار را تمیز و مرتب انجام داده است.				

فارسی خیلی خوب خوب قابل قبول نیاز به تلاش بیشتر




۲- هفت کلمه از درس «نویسنده‌ی بزرگ» که املا‌ی آن‌ها سخت‌تر است را، انتخاب کنید و بنویسید.





### سرگرمی: بالا بردن دقت و تمرکز

۳- به این دو تصویر با دقت نگاه کنید و تفاوت‌های بین دو تصویر را پیدا کنید.



نیاز به تلاش بیشتر

قابل قبول

خوب

خیلی خوب

علوم

۱- یک بار دو سر هم نام و بار دیگر دو سر غیر هم نام آهن ربا را به هم نزدیک کنید، چه اتفاقی

می‌افتد؟ مشاهدات خود را یادداشت کنید.

دو سر هم نام:

دو سر غیر هم نام:



۲- دو نیروی غیر تماسی بنویسید.

.....

.....



۳- کدام نیرو در این تصویر به ما کمک می کند؟



۴- جهت نیروی جاذبه را با پیکان مشخص کنید.

اجتماعی خیلی خوب خوب قابل قبول نیاز به تلاش بیشتر

۱- با یکی از افراد سالخورده‌ی خانواده‌تان گفت و گو کنید و سه ویژگی خانه‌های قدیمی را

بنویسید.

.....

.....

۲- وقتی داخل خانه می‌شوید، در سمت چپ و سمت راست شما کدام مکان‌ها قرار دارد؟

.....

.....



لطیفه:  
مردی سوار اتوبوس دو طبقه می‌شود. هر چه اصرار می‌کنند به طبقه‌ی بالا برود، نمی‌رود و می‌گوید: دفعه‌ی پیش که سوار شدم، فهمیدم که طبقه‌ی بالا راننده ندارد!!!

خیلی خوب خوب قابل قبول نیاز به تلاش بیشتر

..... نظر یا پیشنهاد والدین:

..... ارزیابی آموزگار:



نام و نام خانوادگی:	دبستان:	کلاس:
قرآن: فصل سوم (صفحه ۱۲۱ الی ۱۲۳)	هدیه های آسمان: (صفحه ۱۱۵ الی ۱۲۳)	
ریاضی: فصل هشتم (صفحه ۱۳۹ الی ۱۴۴)	فارسی: درس هفدهم (صفحه ۱۲۰ الی ۱۲۲)	
علوم: درس سیزدهم (صفحه ۱۰۹ الی ۱۱۲)	اجتماعی: درس بیست و دوم (صفحه ۷۱ الی ۷۶)	

قرآن و هدیه

۱- خداوند با فرستادن کدام سوره ، خبر پیروزی سپاه حضرت علی (ع) را به پیامبر (ص) داد؟

۲- نام باغ همیشه بهار، ..... است.



۳- چه کسانی وارد بهشت می شوند؟

۴- نام پدر امام صادق (ع) ..... است.

ریاضی

نیاز به تلاش بیشتر

قابل قبول

خوب

خیلی خوب

۱- حاصل ضرب های زیر را با روش فرآیندی به دست آورید.

$$\begin{array}{r} 34 \\ \times 5 \\ \hline + \\ \hline \end{array}$$

$$\begin{array}{r} \square 57 \\ \times 8 \\ \hline + 2400 \\ \hline + \\ \hline \end{array}$$

۲- حاصل ضرب های زیر را به صورت تقریبی به دست آورید.

$$37 \times 225 = 40 \times 200 = \dots\dots\dots$$

$$890 \times 170 = \dots\dots\dots \times \dots\dots\dots = \dots\dots\dots$$

۳- در ۵ جعبه ی مداد رنگی ۶ تایی و یک جعبه ی ۱۲ تایی روی هم چند مداد وجود دارد؟



۴- پدر حامد ۲۴ سال دارد. اگر سنّ حامد از دو برابر سن پدرش ۴۳ سال کمتر باشد، سن حامد

چه قدر است؟



نیاز به تلاش بیشتر

قابل قبول

خوب

خیلی خوب

فارسی

۱- درستی یا نادرستی جمله ها را مشخص کنید.

نادرست

درست



\* خورشید هرگز نمی خوابد و همیشه مشغول نورافشانی است.



\* در هر شبانه روز زمین یک بار به دور خورشید می چرخد.



\* خورشید سیاره ای است که زمین، سالی یک بار به دور آن می چرخد.



\* پدید آمدن چهار فصل نتیجه ی چرخش زمین به دور خورشید است.

۲- شش کلمه ی مهم از درس «چشم های آسمان» انتخاب کنید و آن ها را به ترتیب حروف الفبا

درون ستاره ها بنویسید.



۳- بند را ادامه دهید.

آن روز یکی از بهترین

.....

.....



## سرگرمی

۴- با حروف به هم ریخته در هر یک از کلمات زیر، نام یک حیوان را پیدا کنید.




مدرس / ..... / مونوقلب / .....

کوروباد / ..... / نفس گود / .....

خیلی خوب خوب قابل قبول نیاز به تلاش بیشتر

## علوم



۱- «وال» جزو کدام گروه از مهره‌داران به شمار می‌آید؟

(د) پستانداران

(ج) دوزیستان

(ب) خزندگان

(الف) ماهی‌ها



۲- اندام تنفسی «فک» کدام است؟

(ج) تنفس پوستی

(ب) آبشش


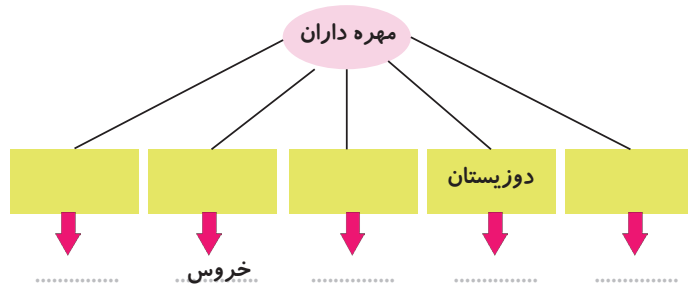
(الف) شش

۳- مهم‌ترین قسمت اسکلت ..... نام دارد.





۴- مهره داران به پنج گروه تقسیم می شوند. آن ها را نام ببرید و هر جانور را در گروه مربوط به خود قرار دهید.



آن چیست سخت است ولی سنگ نیست. تخم می گذارد و مرغ نیست، چهار پا دارد و سگ نیست؟




اجتماعی خیلی خوب خوب قابل قبول نیاز به تلاش بیشتر

۱- تابلوهای مثلثی شکل و دایره ای شکل، چه تفاوتی با هم دارند؟



۲- روشن شدن چراغ «سبز» در چراغ راهنمایی مخصوص وسایل نقلیه، نشانه‌ی چیست؟



خیلی خوب خوب قابل قبول نیاز به تلاش بیشتر

نظر یا پیشنهاد والدین:

ارزیابی آموزگار: